

Auto-évaluation/ex1p199

Sésamath

Maths 2de



Lire les coordonnées des points suivants.

1 A

2 B

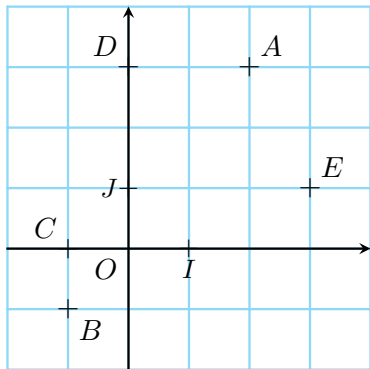
3 C

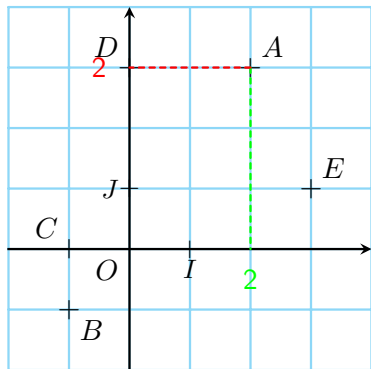
4 D

5 O

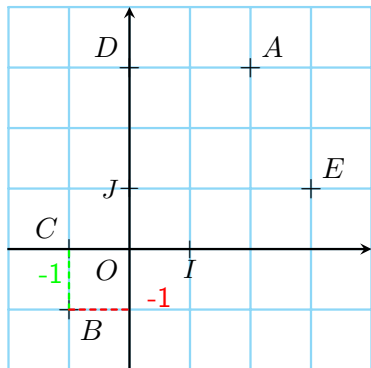
6 I

7 J

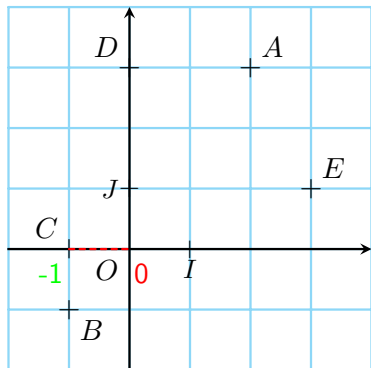




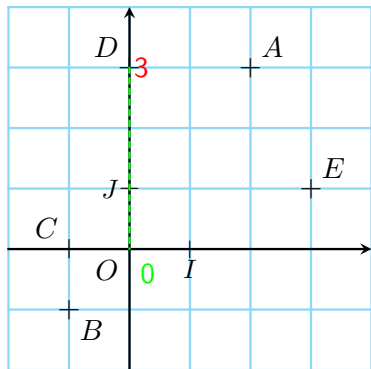
Les coordonnées du point A sont $(2; 3)$.



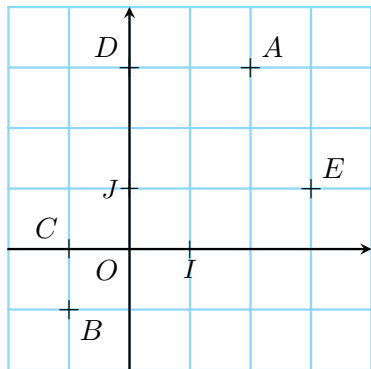
Les coordonnées du point B sont $(-1; -1)$.



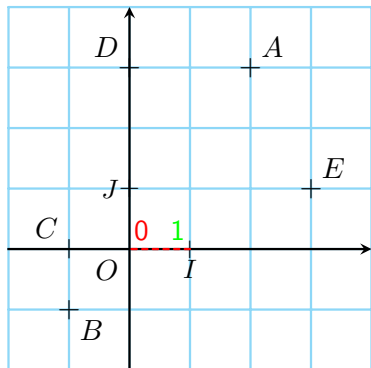
Les coordonnées du point C sont $(-1; 0)$.



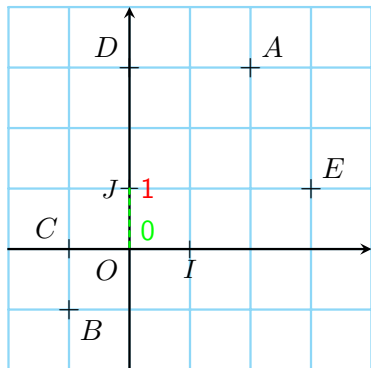
Les coordonnées du point D sont $(0; 3)$.



Les coordonnées du point O sont $(0; 0)$.



Les coordonnées du point I sont $(1; 0)$.



Les coordonnées du point J sont $(0; 1)$.