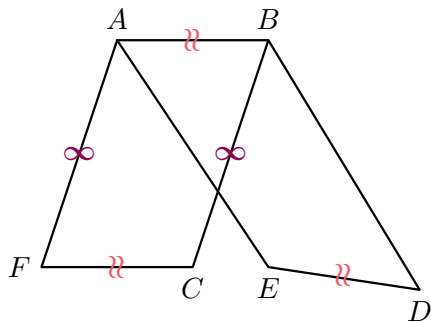


QCM d'auto-évaluation/ex111p221

Sésamath

Maths 2de

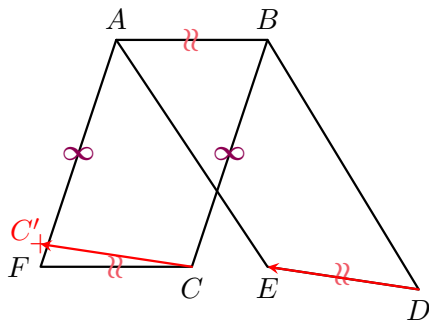


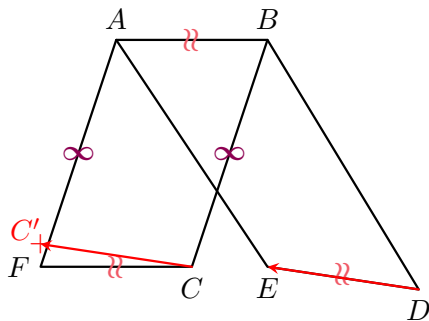


L'image de C dans la translation de vecteur \overrightarrow{DE} :

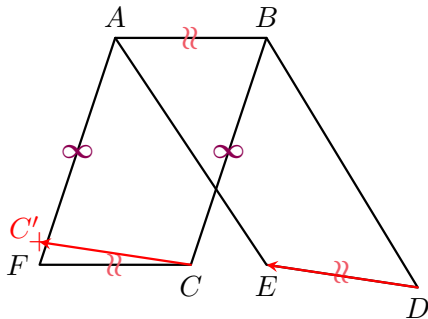
a est F

b n'est pas tracée sur la figure.





L'image de C dans la translation de vecteur \vec{DE} est le point C' .



L'image de C dans la translation de vecteur \overrightarrow{DE} est le point C' .
 $\overrightarrow{CC'} \neq \overrightarrow{CF}$, donc c'est la réponse **b**.