

Auto-évaluation ex4 page 79

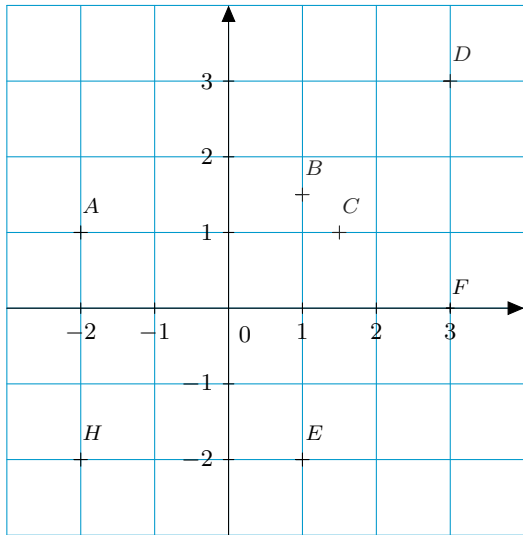
Sésamath

Maths 2de

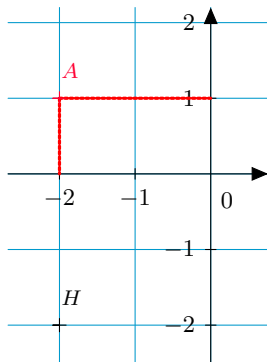


Sur le graphique ci-contre:

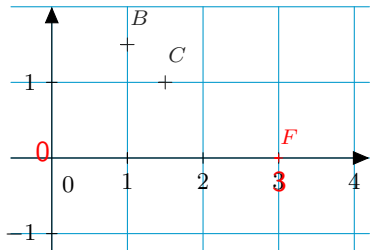
- 1 Quel est le point de coordonnées $(-2; 1)$?
- 2 Quelles sont les coordonnées du point F ?
- 3 Quel(s) est(sont) le(s) point(s) d'abscisse 1?
- 4 Quel(s) est(sont) le(s) point(s) d'ordonnée -2 ?



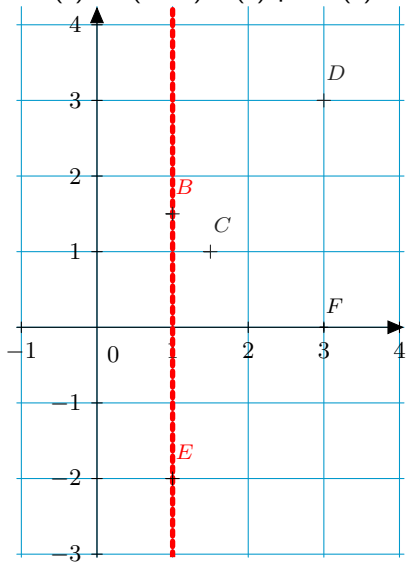
Quel est le point de coordonnées $(-2; 1)$? C'est le point A



Quelles sont les coordonnées du point F ? F a pour coordonnées $(3;0)$.



Quel(s) est(sont) le(s) point(s) d'abscisse 1? Il s'agit des points B et E .



Quel(s) est(sont) le(s) point(s) d'ordonnée -2 ? Il s'agit des points E et H.

