

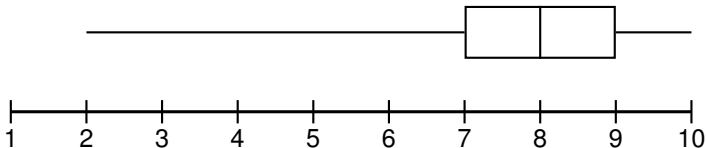
# QCM d'auto-évaluation ex 49 page 263

*Sésamath*

Maths 1S

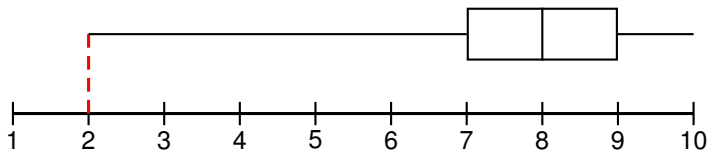


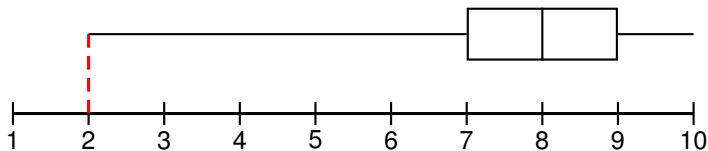
On considère le diagramme en boîte représenté ci-dessous.



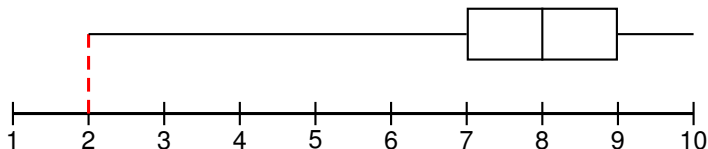
Le minimum est :

- a) 1                                      b) 2                                      c) on ne peut pas savoir





le minimum est égal à 2,



le minimum est égal à 2,  
réponse **b**).