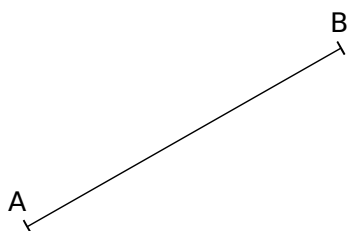
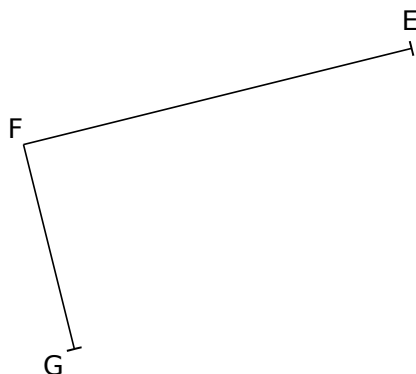


1 Termine la construction de chaque quadrilatère.

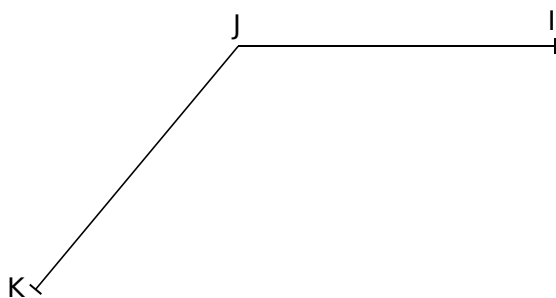
a. Un carré ABCD.



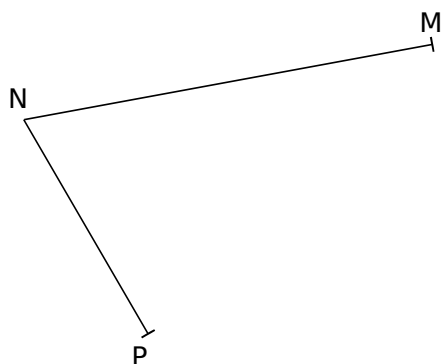
b. Le rectangle EFGH.



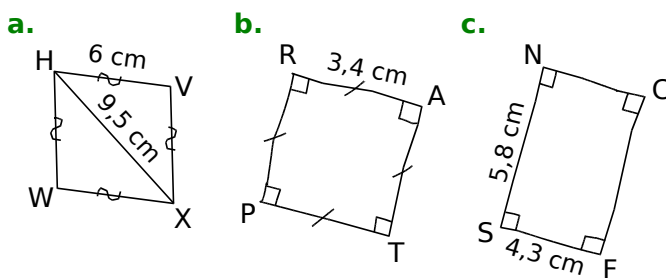
c. Le losange IJKL.



d. Le parallélogramme MNPR.



2 Pour chaque figure, écris **une consigne** qui permet de la tracer.




a. ....

b. ....

c. ....

3 On a tracé un carré WXYZ.



- a. Trace les diagonales de ce carré.
- Trace la droite parallèle à (WY) passant par X.
  - Trace la droite parallèle à (WY) passant par Z.
  - Trace la droite parallèle à (XZ) passant par W.
  - Trace la droite parallèle à (XZ) passant par Y.

b. Ces droites se coupent en formant un quadrilatère. Quelle est la nature de celui-ci ?

.....