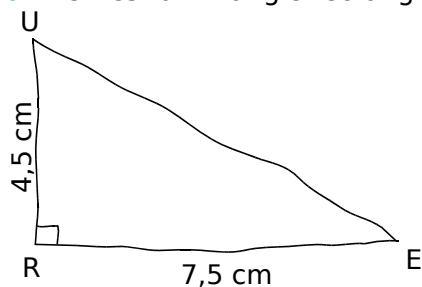
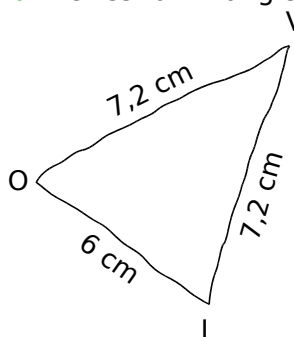


1 Construis les triangles RUE et VOI en respectant les informations données sur chaque schéma.

a. RUE est un triangle rectangle en R.




b. VOI est un triangle isocèle en V.




2 Termine la construction de chaque triangle ci-dessous.

a. RIZ est un triangle équilatéral.



b. BLE est un triangle isocèle rectangle en B.



3 Construis :

a. un triangle équilatéral dont les côtés mesurent 4,7 cm ;

b. un triangle isocèle dont la base mesure 8,2 cm et les deux autres côtés mesurent 5 cm.