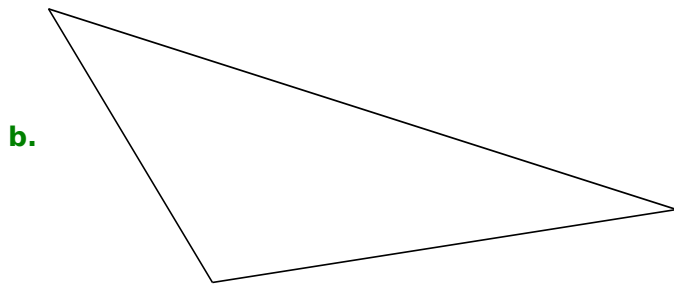
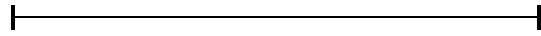
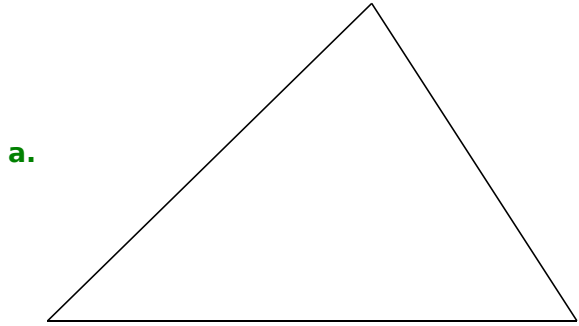
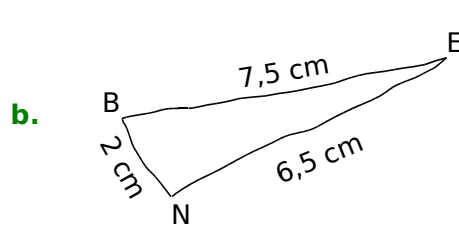
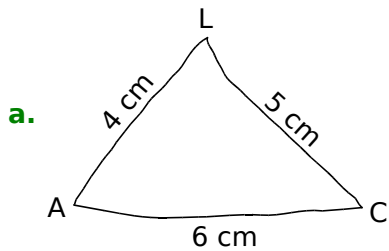


1 Avec tes instruments, reproduis chaque triangle ci-dessous. Pour le **a**, un côté est déjà tracé.



2 Construis les triangles LAC et BEN en respectant les informations données sur chaque schéma.



3 Construis chaque triangle dont on donne la mesure des côtés.

**a.** 6,5 cm ; 4,5 cm et 8,3 cm.

**b.** 7 cm ; 4,7 cm et 7,4 cm.