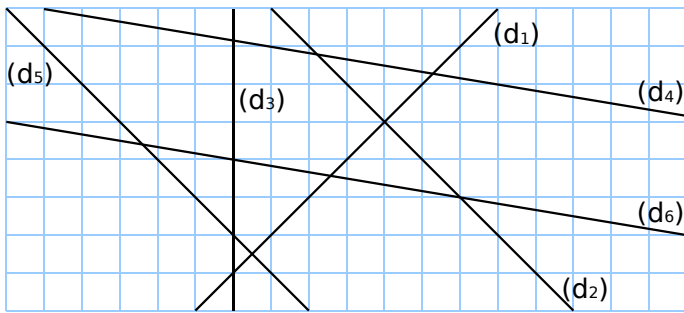
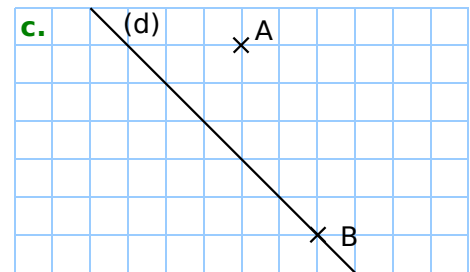
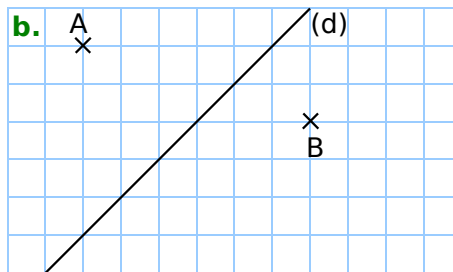
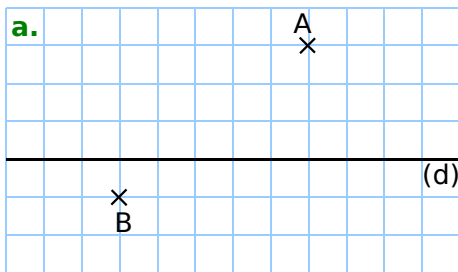


1 En utilisant le quadrillage, complète le tableau.



Droites perpendiculaires	Droites parallèles

2 Sur chaque dessin, trace en vert la droite (d_1) perpendiculaire à la droite (d) passant par le point B et en rouge la droite (d_2) parallèle à la droite (d) passant par le point A.



3 Dans chaque cas, construis, avec les instruments de géométrie, la droite (d_1) parallèle à la droite (d) passant par le point M et la droite (d_2) perpendiculaire à la droite (d) passant par le point N.

