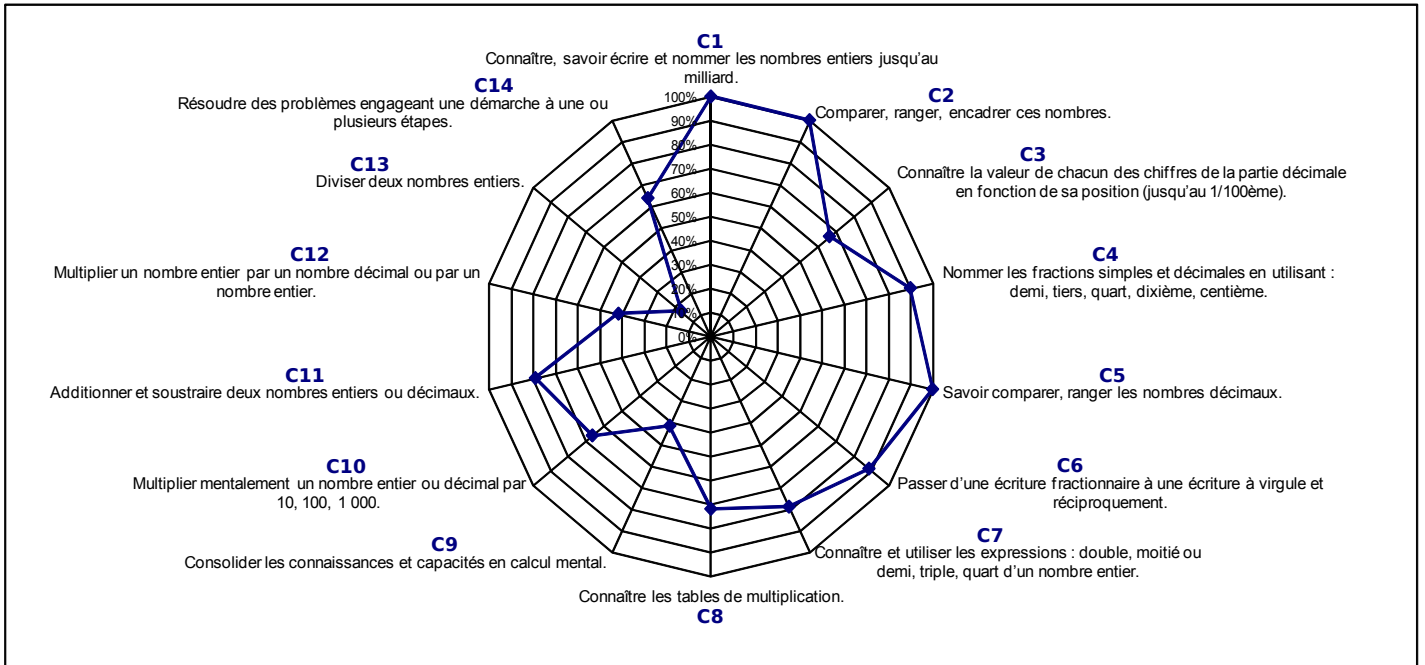


1 Ce graphique en forme de toile d'araignée indique les résultats en mathématiques de Julia.



a. Sur combien de compétences Julia a-t-elle été évaluée ?

.....

b. Quelles sont les 3 compétences parfaitement maîtrisées par Julia ?

.....

c. Quelles sont les compétences pour lesquelles le taux de réussite est compris entre 60 % et 70 % ?

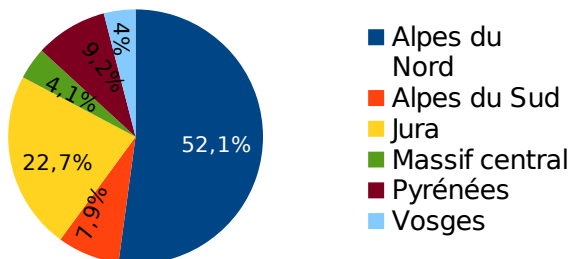
.....

d. Quelles compétences Julia doit-elle travailler pour progresser ?

.....

2 On considère le diagramme suivant.

Répartition du chiffre d'affaires ski de fond par massif



a. Que représente le nombre 22,7 % ?

.....

b. Que représente le nombre 9,2 % ?

.....

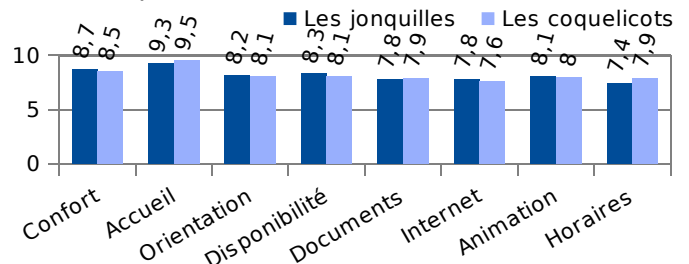
c. Quel est le pourcentage du chiffre d'affaires du ski de fond dans les Alpes du Sud ?

.....

d. Quel est le massif qui réalise le plus fort chiffre d'affaires du ski de fond ?

.....

3 Voici un diagramme représentant la satisfaction (notée de 1 à 10) des usagers de deux bibliothèques selon certains critères.



a. Que représente le nombre 9,5 ?

.....

b. Que représente le nombre 8,3 ?

.....

c. Quelle est la satisfaction des usagers pour les horaires de la bibliothèque « Les jonquilles » ?

.....

d. Quels sont les critères pour lesquels « Les coquelicots » obtient la meilleure satisfaction ?

.....