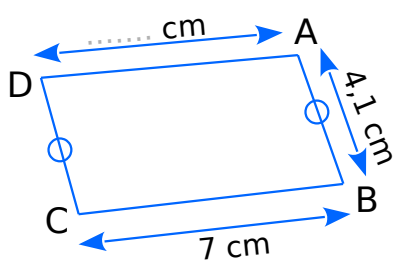


1 Détermine la longueur du segment [AD] sachant que le périmètre du quadrilatère ABCD est de 28 cm.



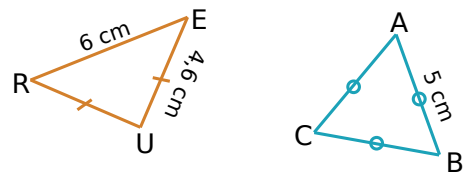
.....

.....

.....

.....

2 Avec un codage
Donne la nature de chaque triangle en justifiant puis calcule son périmètre.



RUE :

.....

.....

.....

.....

.....

ABC :

.....

.....

.....

.....

3 Observe attentivement l'unité de longueur (1 u.l.) puis détermine le périmètre, en unités de longueur, de chaque figure.

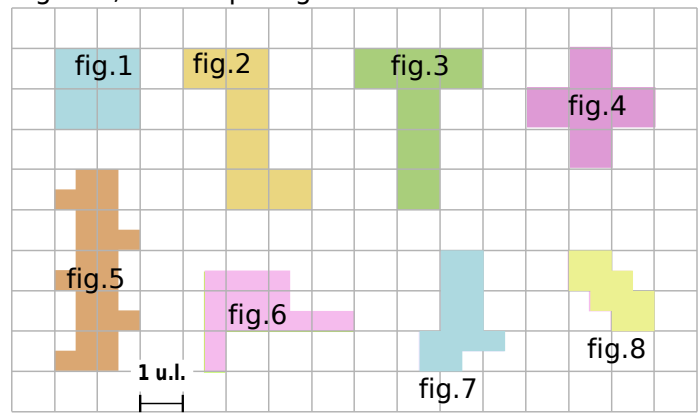


Figure	1	2	3	4	5	6	7	8
Périmètre exprimé en u.l.

4 Avec un quadrillage (bis)
Observe attentivement l'unité de longueur (1 u.l.) puis détermine le périmètre, en unités de longueur, de chaque figure.

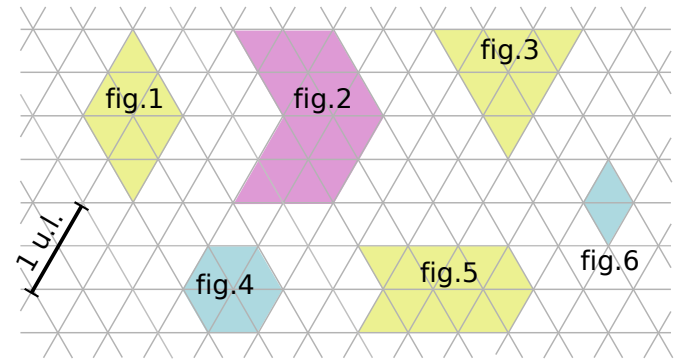
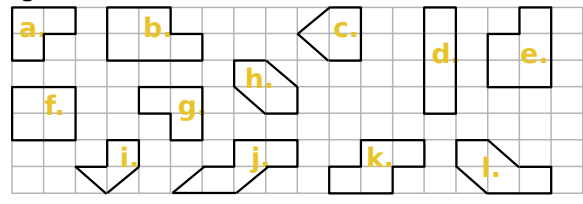


Figure	1	2	3	4	5	6
Périmètre exprimé en u.l.

5 Quelles sont les figures ayant des périmètres égaux ?



.....

.....