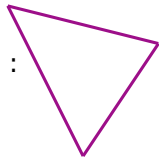



1 Ce triangle a pour aire 2 cm^2 :

Déterminer l'aire du motif ci-dessous :



2 De quelles figures simples est composée cette figure géométrique ?


.....

.....

.....



3 Tangram 2



En utilisant le puzzle ci-dessus, construire les figures ci-dessous :

