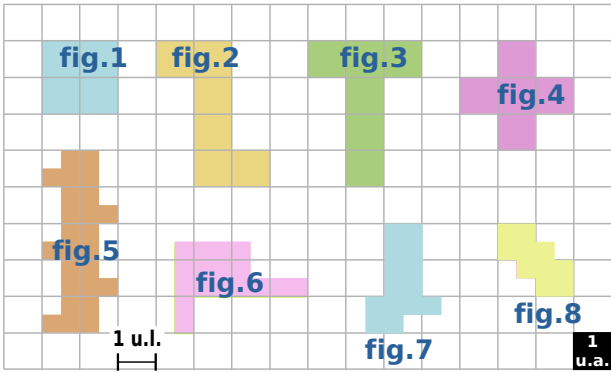


**1 Carrés, demi-carrés et quart de carrés...**



Complète le tableau suivant après avoir observé attentivement l'unité de longueur (« 1 u.l. ») et l'unité d'aire (« 1 u.a. ») :

Figure	1	2	3	4
Périmètre exprimé en u.l.	.....	.....	.....	.....
Aire exprimée en u.a.	.....	.....	.....	.....

Figure	5	6	7	8
Périmètre exprimé en u.l.	.....	.....	.....	.....
Aire exprimée en u.a.	.....	.....	.....	.....

**2 Détermine les aires des figures ci-dessous :**

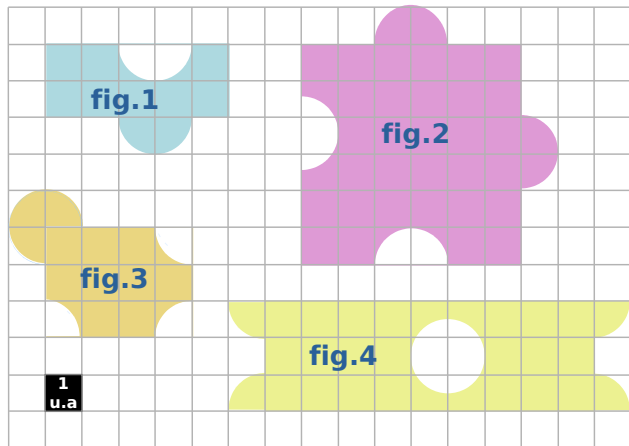
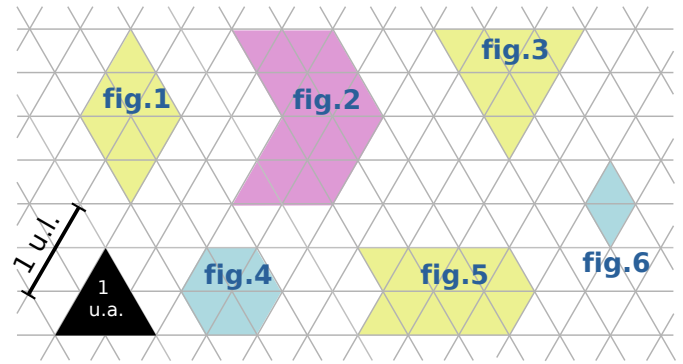


Figure	1	2	3	4
Aire exprimée en u.a.	.....	.....	.....	.....

**3 Triangles équilatéraux.**

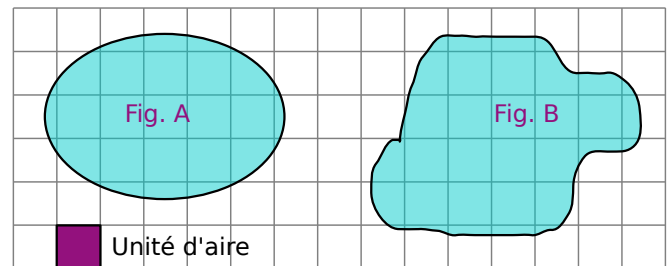


Observe attentivement l'unité de longueur (« 1 u.l. ») et l'unité d'aire (« 1 u.a. ») , puis complète le tableau suivant :

Figure	1	2	3
Périmètre exprimé en u.l.	.....	.....	.....
Aire exprimée en u.a.	.....	.....	.....

Figure	4	5	6
Périmètre exprimé en u.l.	.....	.....	.....
Aire exprimée en u.a.	.....	.....	.....

**4 Détermine un encadrement de l'aire de chaque figure exprimée en unités d'aire.**



.....

.....

.....

.....

.....

.....

.....

.....

.....

.....