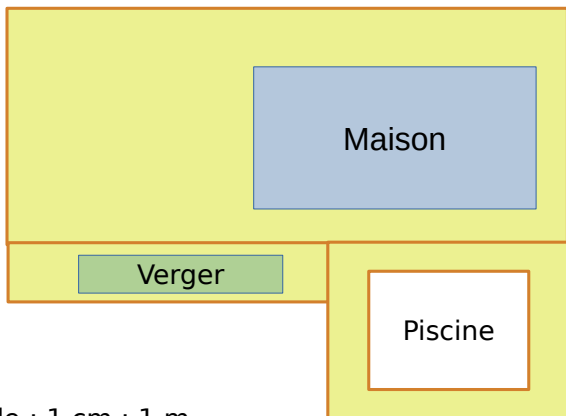


**1** Une entreprise doit clôturer l'ensemble de la propriété ci-dessous. Détermine, à l'aide de ta règle graduée, une valeur approchée du périmètre de la figure, en centimètre. Puis utilise l'échelle pour calculer la longueur réelle de la clôture.



Échelle : 1 cm : 1 m.

.....

.....

.....

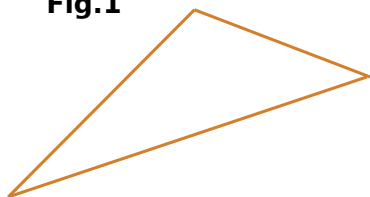
.....

.....

.....

**2** Voici quatre figures :


**Fig.1**




**Fig.4**



**Fig.2**



**Fig.3**



**a.** Détermine, à l'aide de ta règle graduée, une valeur approchée du périmètre de chaque figure

**Fig.1 :**

.....

.....

**Fig.2 :**

.....

.....

**Fig.3 :**

.....

.....

**Fig.4 :**

.....

.....

**b.** Avec les figures **1**, **2**, et **3** de l'exercice, en utilisant le compas, compare le périmètre de ces trois figures (en reportant les longueurs de leurs côtés sur les demi-droites ci-dessous).

