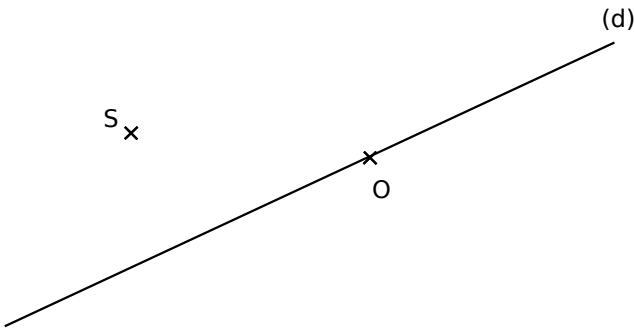
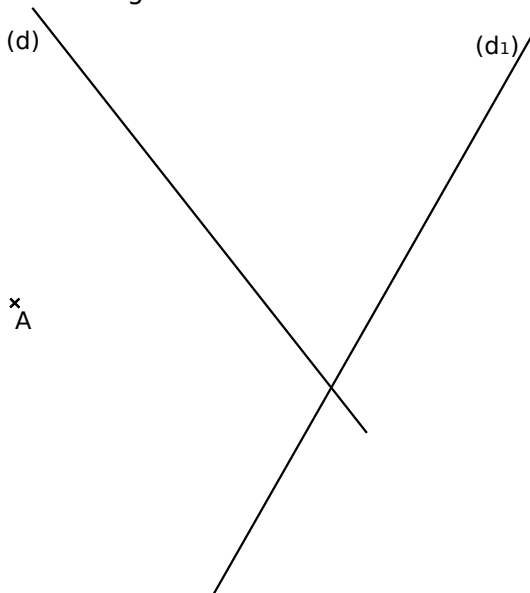


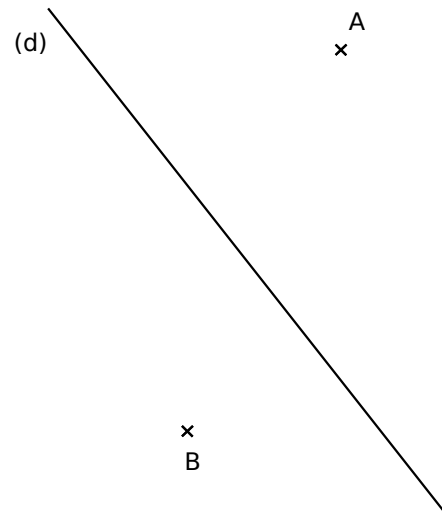
1 Construis un rectangle RSTU de centre O et tel que (d) soit un de ses axes de symétrie.



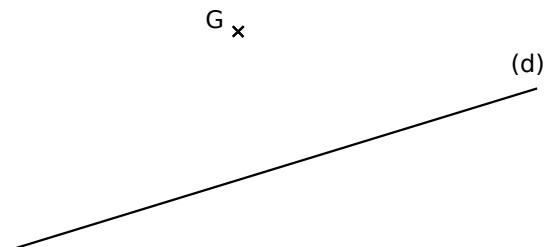
2 Malik a imaginé la figure ci-dessous pour construire un rectangle ABCD, tel que la droite (d) soit un de ses axes de symétrie et le point C appartienne à la droite (d1). Aide Malik à construire son rectangle ABCD.



3 Construis un rectangle CHAT tel que (d) soit un de ses axes de symétrie et que B ∈ [CH].



4 Construis un losange ANGE tel que (d) soit un de ses axes de symétrie et NE=6 cm.



5 Construis un carré NORD tel que (d) soit un de ses axes de symétrie et O ∈ (d).

