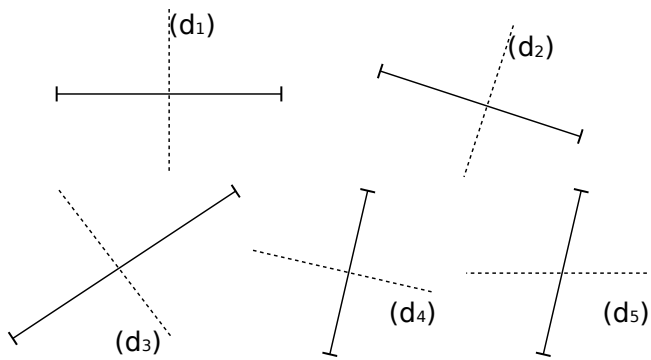


1 Médiatrices ?



Dans les figures ci-dessus,

a. Cite les droites qui semblent être les médiatrices des segments puis code-les.

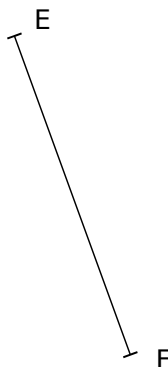
.....

b. Cite celles qui ne semblent pas l'être. Justifie.



.....

.....

2 Construis la médiatrice de chaque segment à l'aide de la règle graduée et de l'équerre, puis code chaque figure.



3 Construis la médiatrice de chaque segment au compas et à la règle non graduée.



4 Construis les médiatrices des trois côtés du triangle.

