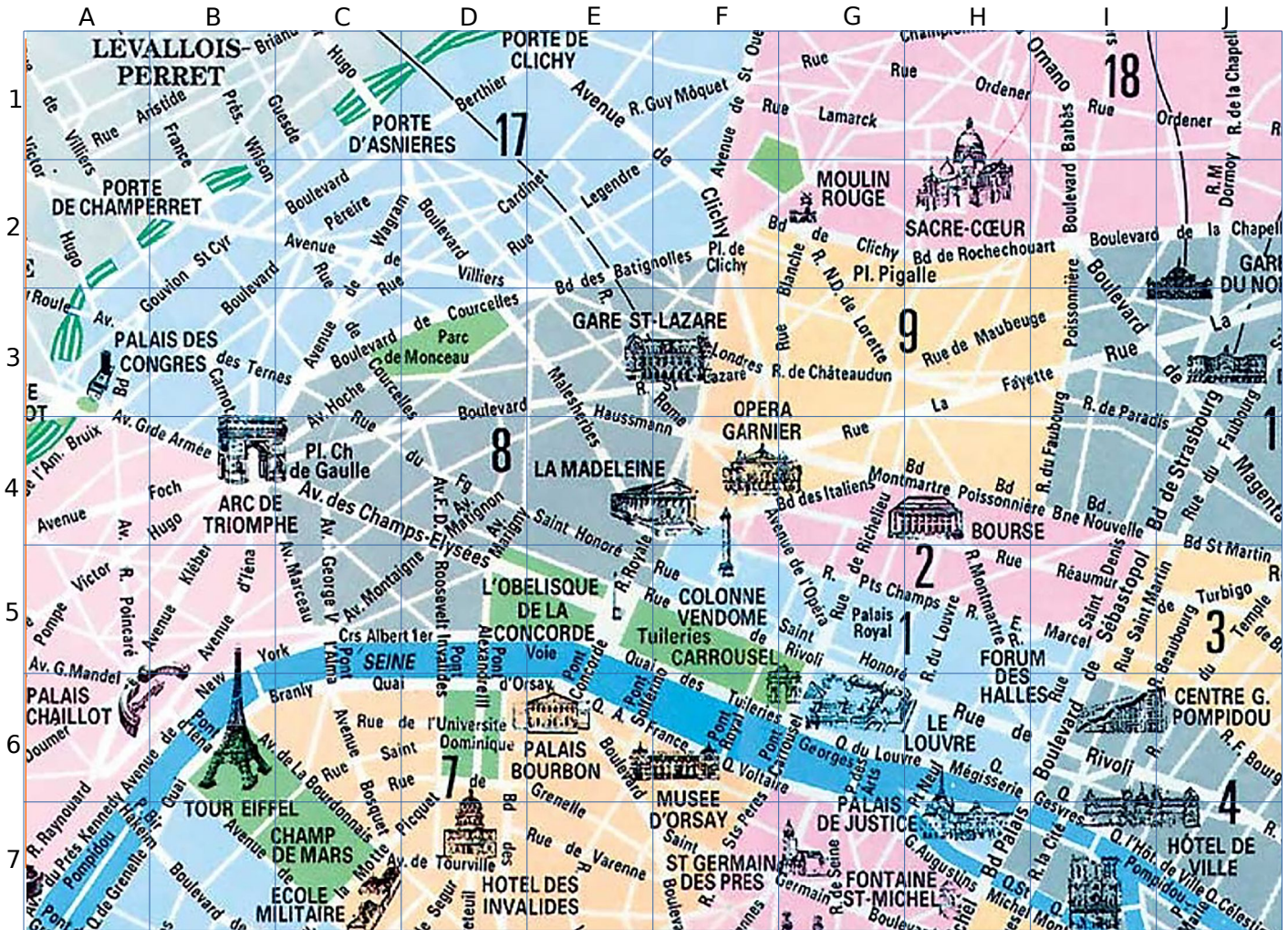


# Série 1 Se repérer

1 À Paris, Louise dispose d'un plan dont voici un extrait :  
(source de la carte : <https://opendata.paris.fr/map>)



a. Cite trois espaces verts qui sont représentés sur la carte.

b. Quel est le bâtiment qui se situe dans le XVII<sup>ème</sup> arrondissement de Paris ?

c. Dans quel arrondissement et dans quelle case se situe :

- Le musée du Louvre ?
- La gare Saint Lazare ?
- L'hôtel de ville ?

d. Louise se rend à la tour Eiffel (près du quai Branly). Elle décide ensuite de marcher jusqu'au Sacré-Cœur. Elle dispose d'indications qu'elle avait chargées sur Internet. Trace en rouge son trajet sur le plan à l'aide des indications écrites. Prendre le quai Branly jusqu'au Pont de l'Alma.

Traverser le pont de l'Alma et prendre l'avenue Montaigne jusqu'au rond point des Champs-Élysées.

Continuer tout droit sur l'avenue Matignon.

Se diriger vers la gare Saint-Lazare et prendre la rue Saint-Lazare jusqu'à l'église de la Trinité.

Turner alors sur la rue Blanche.

Turner à droite sur le boulevard de Clichy.







Continuer sur le boulevard de Rochechouard jusqu'au métro Anvers.

Turner à gauche sur la rue de Steinkerque.

On arrive au square Louise Michel qui est situé au pied du Sacré-Cœur.

## 2 Dans un tableur

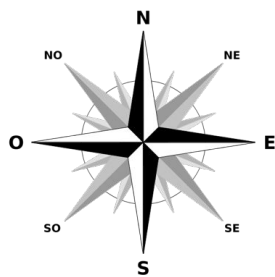
Voici la copie d'écran d'un classeur :

	A	B	C	D	E
1					
2					
3					
4					
5					
6					
7					
8					
9					
10					

a. Indiquer la position de chacun des poissons.

- Vert : .....
- Rouge : .....
- Violet : .....
- Jaune : .....
- Gris : .....
- Bleu : .....

## 3 L'île de la Réunion



a. Quelle(s) ville(s) de la carte se situe(nt) :

- à l'Est de la Plaine des Palmistes ?  
.....
- Au Sud-Ouest de Cilaos ? .....
- Au Nord de Salazie ? .....

b. Où se situe le Piton de la fournaise par rapport :

- à Saint Benoît ? .....
- Au Tremblet ? .....
- À l'Entre-Deux ? .....
- Au Piton des neiges ? .....