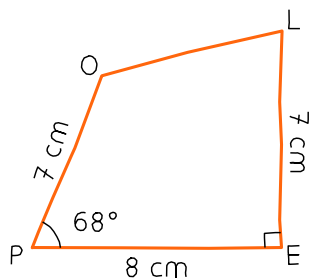


1 POLE

a. En utilisant les instruments de géométrie, reproduis ci-dessous cette figure en vraie grandeur.



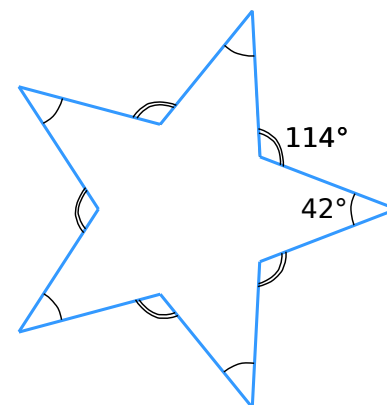
b. Quelle est la nature de l'angle \widehat{OLE} ?

.....

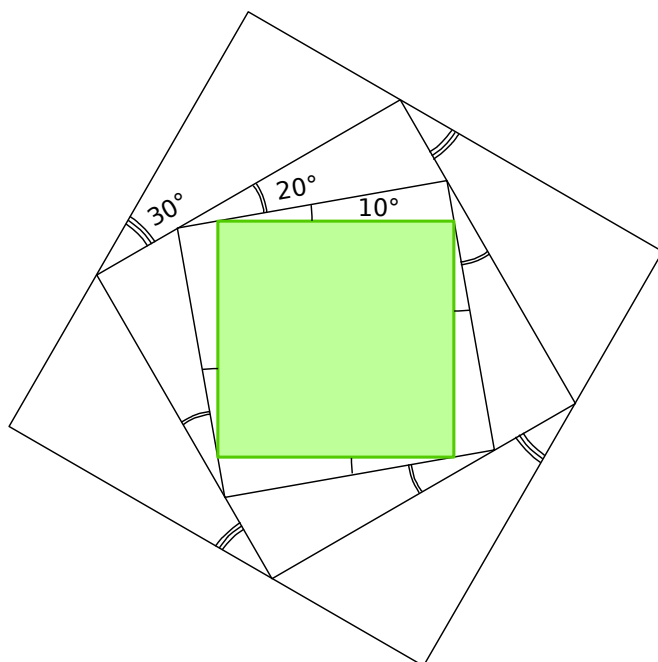
c. Trace la bissectrice de l'angle \widehat{POL} .

2 Étoile

Chaque côté de l'étoile mesure 3,5 cm. Reproduis l'étoile ci-contre en respectant les données.

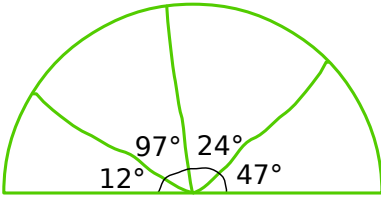


3 À partir du carré coloré, reproduis la figure ci-dessous en utilisant tes instruments de géométrie.

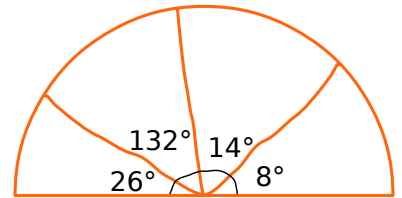


4 Reproduis ci-contre les figures suivantes en vraie grandeur : les demi-cercles et les cercles ont un rayon de 4 cm. (Attention, les figures sont volontairement fausses.)

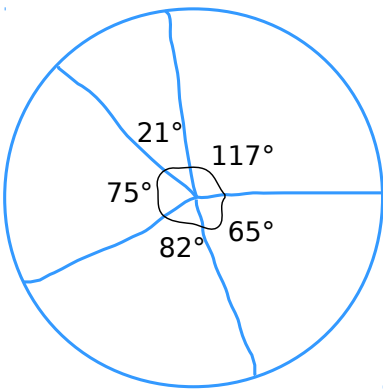
a.



b.



c.



d.

