

I - Sous-multiples de l'unité


→ ex **1**

A - Les dixièmes

Définition

Quand on coupe une unité en 10 parties égales, on obtient des **dixièmes**.


Un dixième se note : $\frac{1}{10}$. Dans l'unité, il y a 10 dixièmes donc : $1 = \frac{10}{10}$.



Exemples :



représente $\frac{3}{10}$




représente $2 + \frac{8}{10} = \frac{28}{10} = 2,8$

B - Les centièmes


Définition

Quand on coupe une unité en 100 parties égales, on obtient des **centièmes**.


Un centième se note : $\frac{1}{100}$. Dans l'unité, il y a 100 centièmes donc : $1 = \frac{100}{100}$.



Exemples :



représente $\frac{32}{100} = \frac{3}{10} + \frac{2}{100}$



représente $\frac{275}{100} = 2 + \frac{75}{100} = 2 + \frac{7}{10} + \frac{5}{100} = 2,75$

C - Les millièmes

Définition

Quand on coupe une unité en 1 000 parties égales, on obtient des **millièmes**.

Un millième se note : $\frac{1}{1000}$. Dans l'unité, il y a 1 000 millièmes donc : $1 = \frac{1000}{1000}$.

Exemple : $\frac{14\,531}{1\,000} = 14 + \frac{531}{1\,000} = 14 + \frac{5}{10} + \frac{3}{100} + \frac{1}{1\,000} = 14,531$.

II - Décomposition et nom des chiffres

→ ex **2** et **3**

Définitions

Un nombre pouvant s'écrire sous la forme d'une fraction décimale (dont le numérateur est un nombre entier et le dénominateur est 1, 10, 100, 1 000...) est un **nombre décimal**.

Il peut aussi se noter en utilisant une virgule, c'est son **écriture décimale** qui est composée d'une **partie entière** et d'une **partie décimale**.



Exemple : On considère le nombre décimal 1 345,824.

- Écris ce nombre en toutes lettres.
- Donne une décomposition de ce nombre.
- Donne le nom de chaque chiffre.

1 3 4 5 , 8 2 4
partie entière partie décimale

On peut utiliser un tableau.

Partie entière	Partie décimale					
	Dixièmes	Centièmes	Millièmes	Dix-millièmes	Cent-millièmes	Millionièmes
1 3 4 5	8	2	4			

a. Ce nombre se lit donc :

mille-trois-cent-quarante-cinq unités et $\left\{ \begin{array}{l} \text{huit-cent-vingt-quatre millièmes} \\ \text{ou huit dixièmes deux centièmes quatre millièmes} \\ \text{ou virgule huit-cent-vingt-quatre} \end{array} \right.$

b. Il peut se décomposer comme ci-dessous.

$$1\,345,824 = (1 \times 1\,000) + (3 \times 100) + (4 \times 10) + (5 \times 1) + \left(8 \times \frac{1}{10}\right) + \left(2 \times \frac{1}{100}\right) + \left(4 \times \frac{1}{1\,000}\right)$$

c. Voici le nom de chaque chiffre :

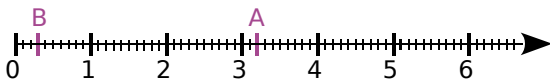
- 1 est le chiffre des unités de mille
- 3 est le chiffre des centaines
- 4 est le chiffre des dizaines
- 5 est le chiffre des unités
- 8 est le chiffre des dixièmes
- 2 est le chiffre des centièmes
- 4 est le chiffre des millièmes

Remarque : Un nombre entier est un nombre décimal particulier.

En effet, 25 peut s'écrire avec une virgule (25,0) ou sous la forme d'une fraction décimale $\left(\frac{25}{1}\right)$.

III - Repérage sur une demi-droite graduée → ex 4

Exemple : Quelles sont les abscisses des points A et B ?



- Une unité est divisée en dix parts égales, ce qui signifie qu'elle est partagée en dix dixièmes.
- Le point A se trouve 2 dixièmes après 3 donc son abscisse est $3 + \frac{2}{10}$, soit 3,2.
- Le point B a pour abscisse $0 + \frac{3}{10}$, soit 0,3.
- On note A(3,2) et B(0,3).

IV - Comparaison et rangement

A - Comparaison de deux nombres décimaux → ex 5

Définition

Comparer deux nombres, c'est trouver lequel est le plus grand (ou le plus petit) ou dire s'ils sont égaux.

Remarque : On utilise les symboles $>$ pour « plus grand que » et $<$ pour « plus petit que ».

Règle

Pour comparer deux nombres décimaux écrits sous forme décimale :

- on compare les **parties entières** ;
- si les parties entières sont égales alors on compare les **chiffres des dixièmes** ;
- si les chiffres des dixièmes sont égaux alors on compare les **chiffres des centièmes** ;
- et ainsi de suite jusqu'à ce que les deux nombres aient des chiffres différents.

Exemple : Compare les nombres 81,357 et 81,36.

- On compare d'abord les **parties entières** des deux nombres ;
- elles sont égales donc on compare les **chiffres des dixièmes** ;
- ils sont égaux donc on compare les **chiffres des centièmes** ;
- **5 < 6** donc **81,357 < 81,36**.

Remarque : Quand les parties entières sont égales, on peut comparer les **parties décimales**.

$$81,357 = 81 + \frac{357}{1\,000} \text{ et } 81,36 = 81 + \frac{36}{100} = 81 + \frac{360}{1\,000} = 81,360.$$

Or, **360 millièmes** est plus grand que **357 millièmes** donc **81,36 > 81,357**.

B - Rangement de nombres décimaux

→ ex **6**

Exemple : Range les nombres 25,342 ; 253,42 ; 25,243 ; 235,42 ; 25,324 dans l'ordre croissant.

On repère le plus petit puis le plus petit des nombres qui restent et ainsi de suite jusqu'au dernier.

On obtient donc : $25,243 < 25,324 < 25,342 < 235,42 < 253,42$.

Exercices "À toi de jouer"

- 1 Donne une écriture décimale des nombres $\frac{30\,073}{1\,000}$ et $27 + \frac{4}{100} + \frac{3}{1\,000}$.
- 2 Écris les nombres suivants en toutes lettres : **a.** 15,2 **b.** 4,89 **c.** 8,999 **d.** 0,234 5
- 3 On considère le nombre 59 364,281 07. Donne le nom de chaque chiffre.
- 4 Sur une demi-droite graduée, place les points M d'abscisse 2,7 et N d'abscisse 5,2.
- 5 Trouve le plus grand nombre et le plus petit nombre parmi les nombres de la liste suivante :
73,092 ; soixante-treize unités et quatre-vingt-douze centièmes ;
 $73 + \frac{902}{1\,000}$; $\frac{73\,209}{1\,000}$; $73 + \frac{2}{10} + \frac{9}{100}$ et $\frac{73\,029}{1\,000}$.
- 6 Range les nombres 25,342 ; 253,42 ; 25,243 ; 235,42 ; 25,324 dans l'ordre croissant.