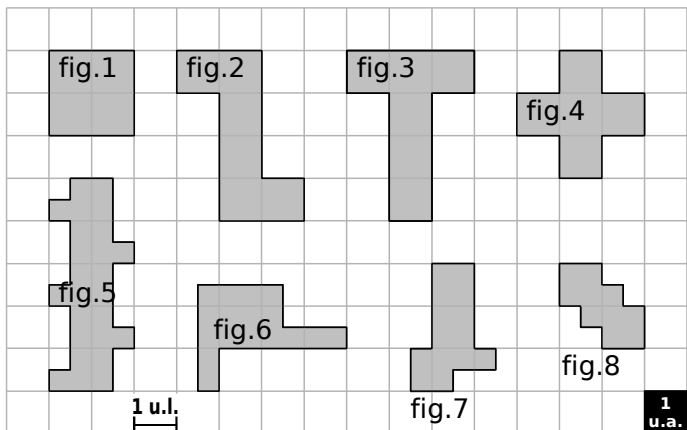


**1** Aire et périmètre par dénombrement



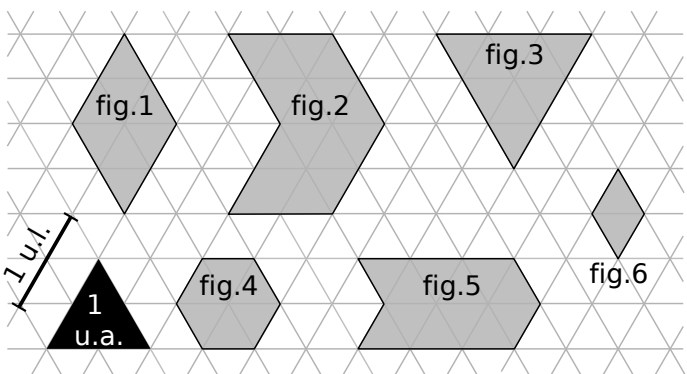
a. Observe attentivement l'unité de longueur (1 u.l.) puis détermine le périmètre, en unités de longueur, de chaque figure.

Figure	1	2	3	4	5	6	7	8
Périmètre exprimé en u.l.								

b. Observe attentivement l'unité d'aire (1 u.a.) puis détermine l'aire, en unités d'aire, de chaque figure.

Figure	1	2	3	4	5	6	7	8
Aire exprimée en u.a.								

**2** Des triangles équilatéraux



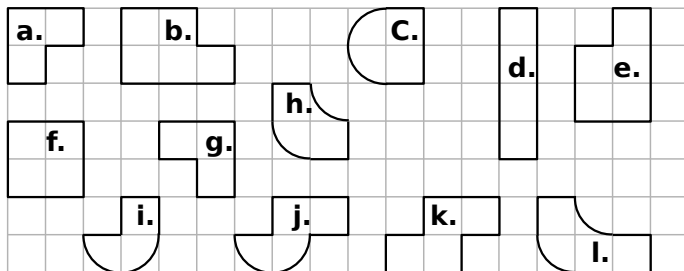
a. Observe attentivement l'unité de longueur (1 u.l.) puis détermine le périmètre, en unités de longueur, de chaque figure.

Figure	1	2	3	4	5	6
Périmètre exprimé en u.l.						

b. Observe attentivement l'unité d'aire (1 u.a.) puis détermine l'aire, en unités d'aire, de chaque figure.

Figure	1	2	3	4	5	6
Aire exprimée en u.a.						

**3** Colorie de la même couleur les figures qui ont des périmètres égaux.



**4** Détermine les aires des figures ci-dessous.

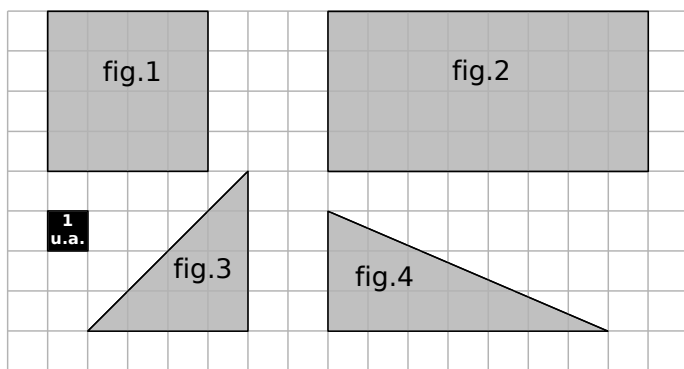


Figure	1	2	3	4
Aire exprimée en u.a.				

**5** Détermine les aires des figures ci-dessous.

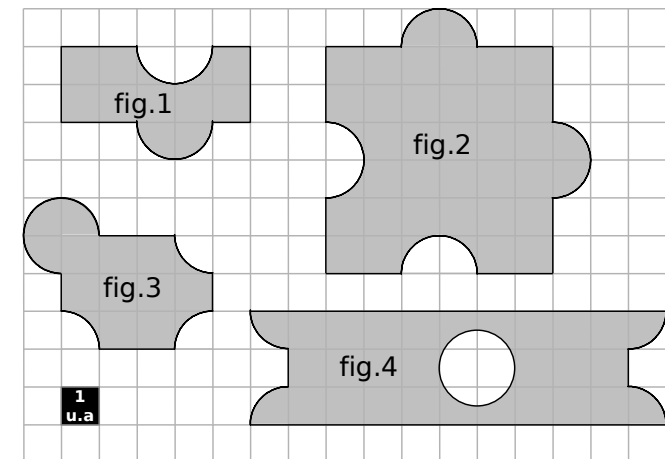


Figure	1	2	3	4
Aire exprimée en u.a.				

**6** En t'inspirant de l'exercice précédent, construis une figure d'aire 12 carreaux contenant deux demi-disques.

